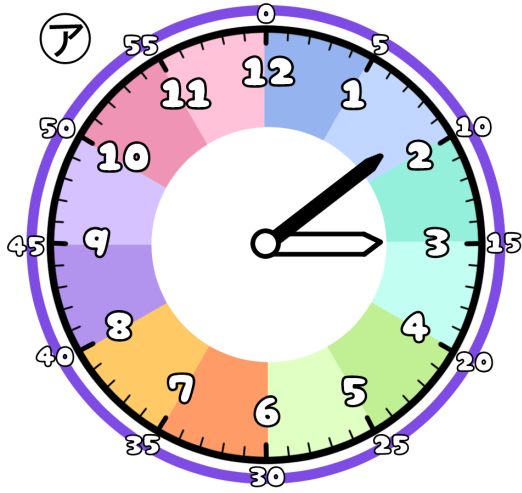


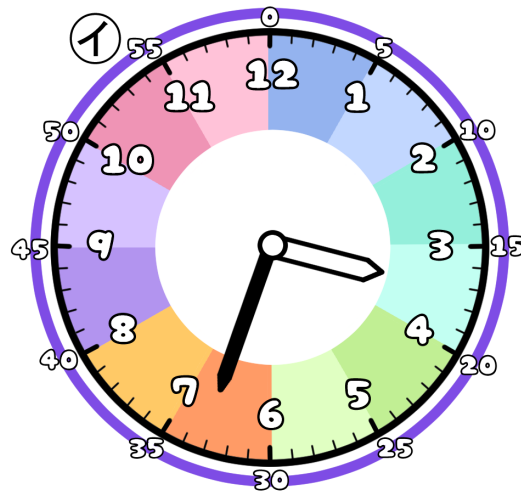
とけいのプリント

なまえ

① つぎの時こくは なんじ なんぶん 何時何分でしょう？



時 分

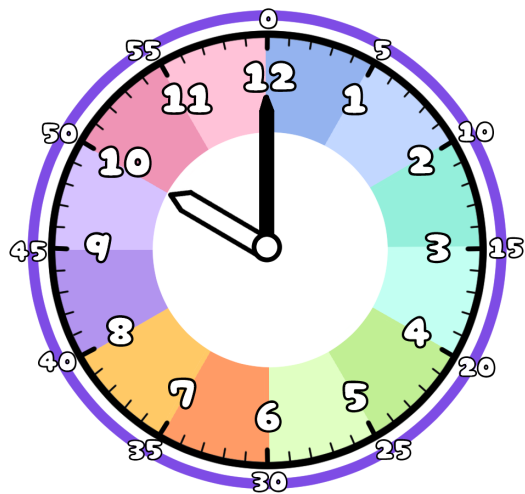


時 分

② アからイの時こくに なるには？

分 の時間 が ひつよう です。

③ 今の時こくは、10時です。つぎの時こくを 答えましょう。



1時間前



1時間後



25分前



43分後

