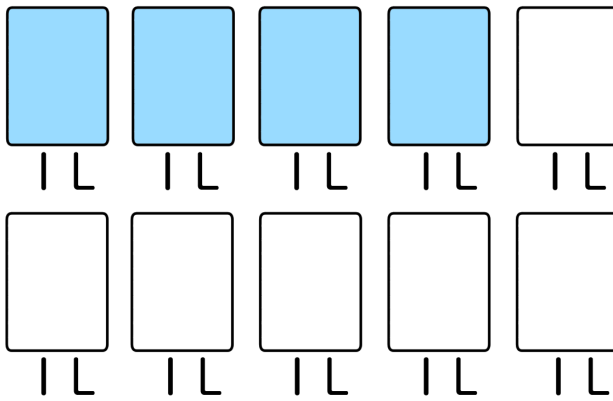

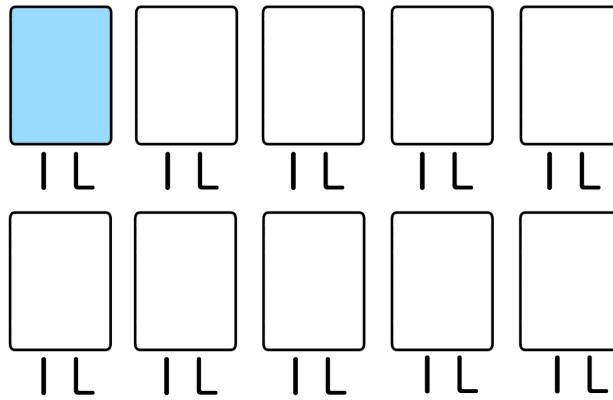
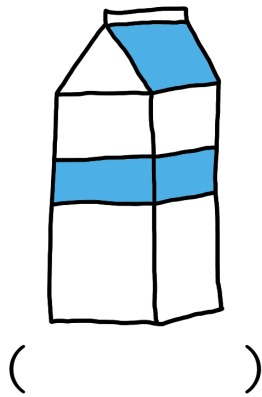


① <sup>みず</sup>水の量 <sup>りょう</sup>が多い方 <sup>おお</sup>は <sup>ほう</sup>どっちかな？ <sup>まる</sup>( )に丸 <sup>か</sup>を書いてみよう



② <sup>あ</sup>合わせると <sup>ぜんぶ</sup>ぜんぶで <sup>いくつ</sup>いくつ <sup>になる</sup>になるかな？

しき

こたえ

---

③ <sup>ちがいは</sup>ちがいは <sup>いくつ</sup>いくつ <sup>になる</sup>になるかな？

しき

こたえ

---