

# とけいのプリント

# なまえ

① <sup>しかく</sup>□に <sup>あ</sup>当てはまる <sup>じかん</sup>時間を <sup>か</sup>書きましょう。

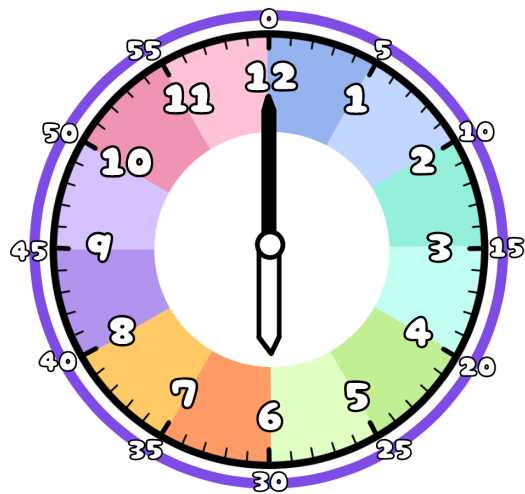


<sup>にち</sup>1日は →

<sup>ごぜん</sup>午前は →

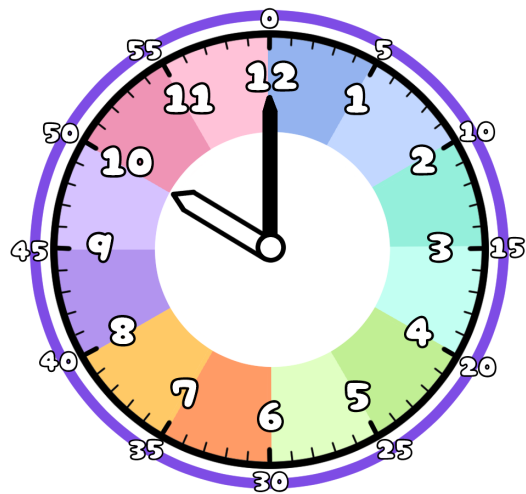
<sup>ごご</sup>午後は →

② <sup>ごぜん</sup>午前 か <sup>ごぜん</sup>午後 か <sup>まる</sup>丸をつけましょう。



<sup>あさ</sup>朝の <sup>じ</sup>6時に <sup>お</sup>起きた

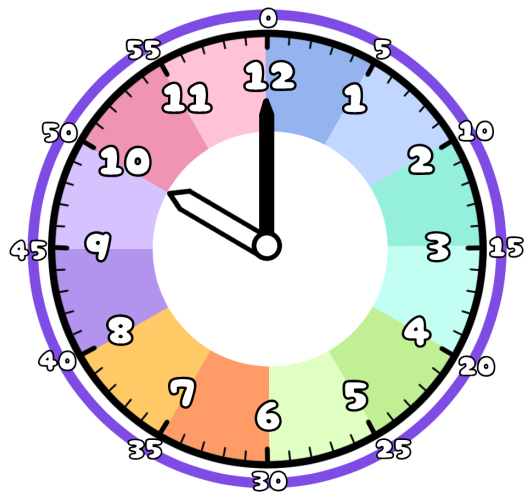
<sup>ごぜん</sup>午前 ・  <sup>ごご</sup>午後



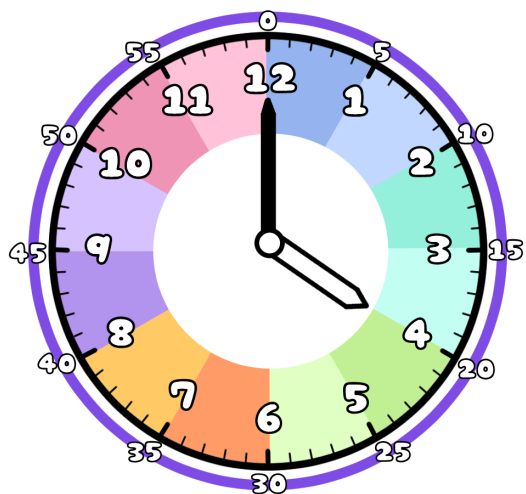
<sup>よる</sup>夜の <sup>じ</sup>10時に <sup>ね</sup>た

<sup>ごぜん</sup>午前 ・  <sup>ごご</sup>午後

③ <sup>はい</sup>ゆうえんち に <sup>はい</sup>入ってから <sup>で</sup>出るまでの <sup>じかん</sup>時間は何時間かな？



<sup>はい</sup>入った時間は <sup>じかん</sup>午前 <sup>ごぜん</sup>10時



<sup>で</sup>出た時間は <sup>じかん</sup>午後 <sup>ごご</sup>4時