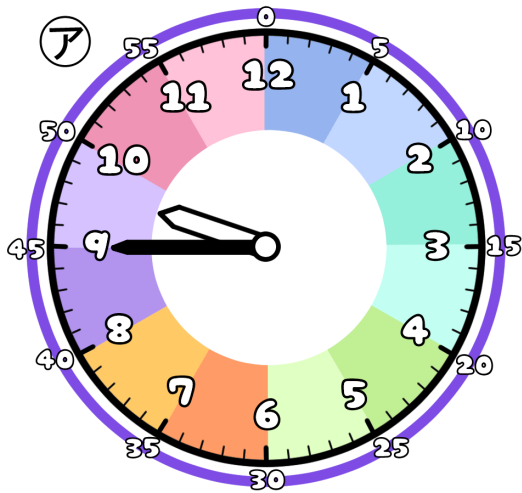


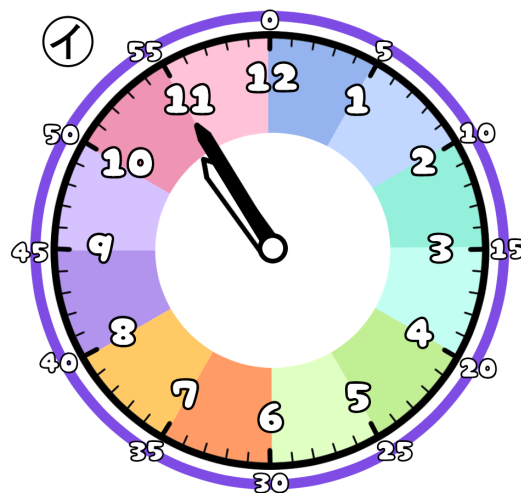
とけいのプリント

なまえ

① つぎの時こくは なんじ なんぶん 何時何分でしょう？



時 分




時 分

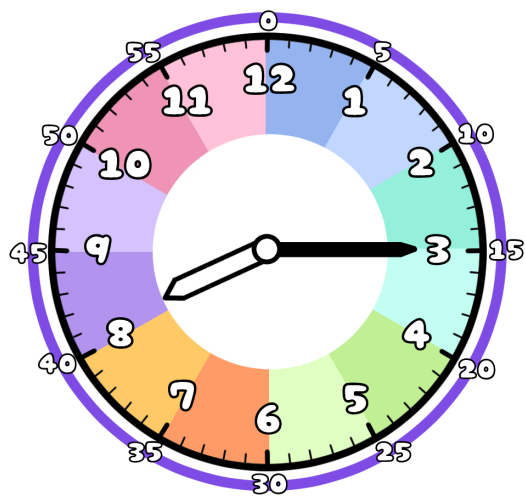
② アからイの時こくになるには？

時間 分の時間がひつようです。1時間は60分だよ

また 分の時間がひつようです。



③ 今の時こくは、8時15分です。つぎの時こくを こた 答えましょう。



1時間15分前



1時間15分後



45分前



45分後

