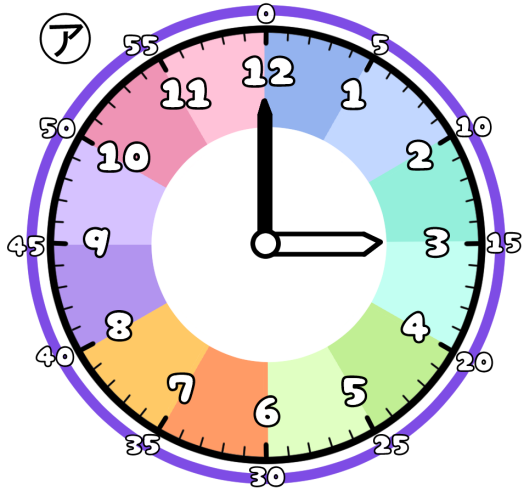


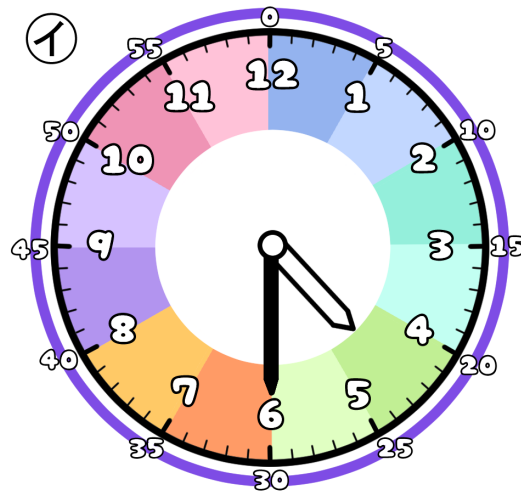
とけいのプリント

なまえ

① つぎの時こくは なんじ なんぶん 何時何分でしょう？



時 分




時 分

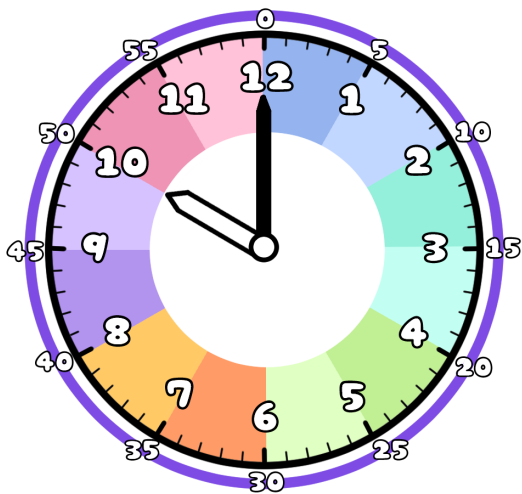
② アからイの時こくになるには？

時間 分の時間 が ひとつ ですよ。 1時間は60分だよ

また 分の時間 が ひとつ ですよ。



③ 今の時こくは、10時です。つぎの時こくを 答えましょう。



1時間30分前 →

1時間30分後 →

45分前 →

45分後 →