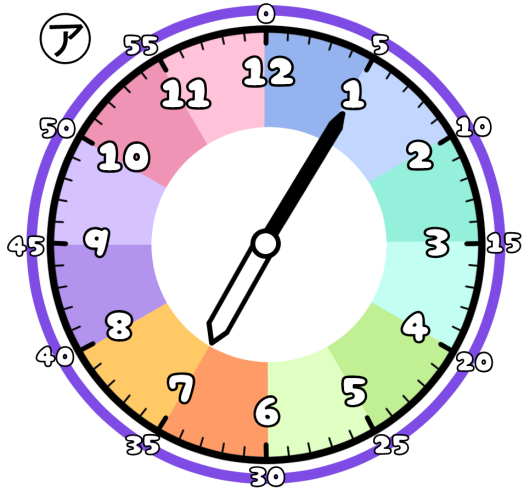


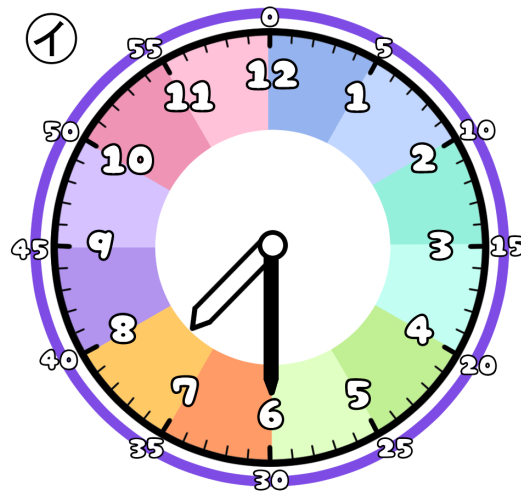
# とけいのプリント

# なまえ

① つぎの時こくは なんじ なんぶん 何時何分でしょう？



時  分

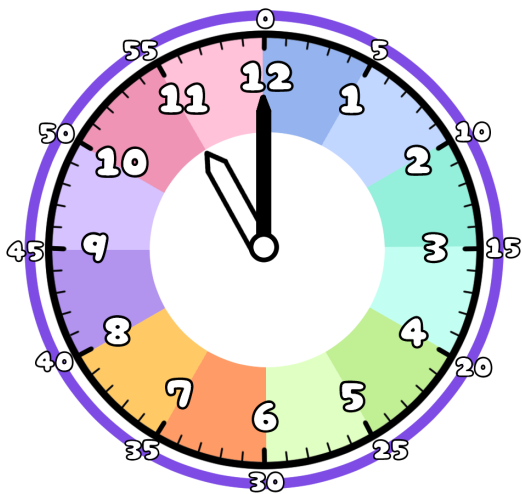


時  分

② ①から②の時こくに なるには？

分  の時間 が ひつよう です。

③ 今の時こくは、11時です。つぎの時こくを 答えましょう。



1時間前



1時間後



20分前



20分後

