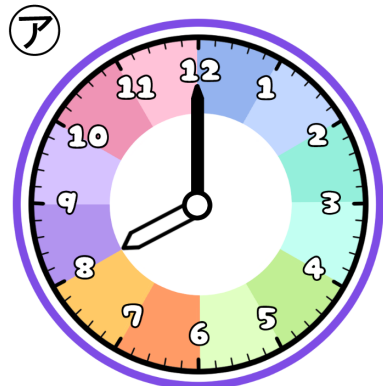


とけいのプリント

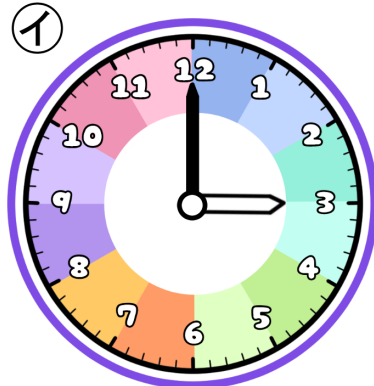
なまえ

1 つぎの時こくを午前・午後をつかって答えましょう。



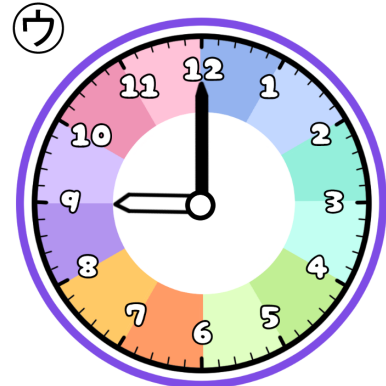
あさお
朝起きた

じ ぶん
時 分



おやつタイムにおかしを食べた

じ ぶん
時 分



よる
夜、ふとんでねた


じ ぶん
時 分

① 朝起きてから2時間後に出かけました。出かけた時こくを答えましょう。



こたえ

② おやつを午後3時20分に食べ終わりました。食べていた時間を答えましょう。



こたえ

③ 朝起きてから夜ねるまでの時間を答えましょう。



こたえ