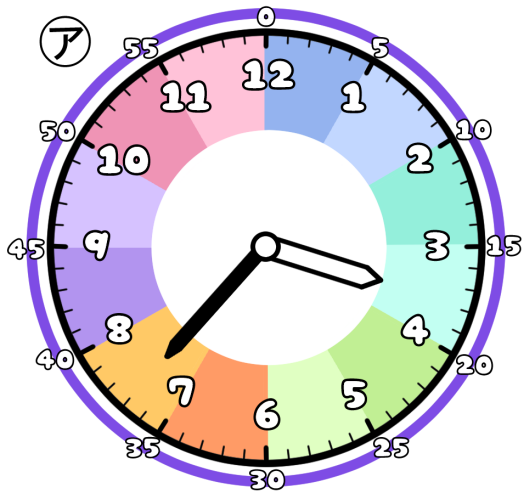


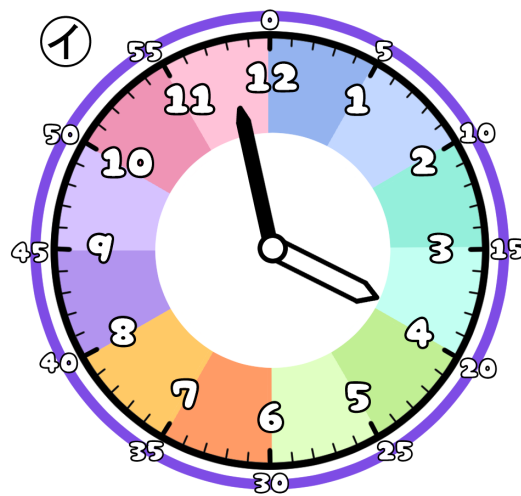
とけいのプリント

なまえ

① つぎの時こくは なんじ なんぶん 何時何分でしょう？



時 分

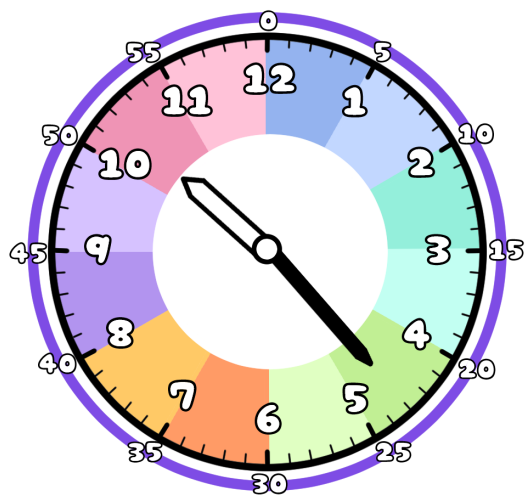


時 分

② ①から②の時こくに なるには？

分 じかん の時間 が ひつよう です。

③ 今の時こくは、10時23分です。つぎの時こくを こた 答えましょう。



じかん まえ
1時間前



じかん ご
1時間後



ふん まえ
20分前



ふん ご
20分後

