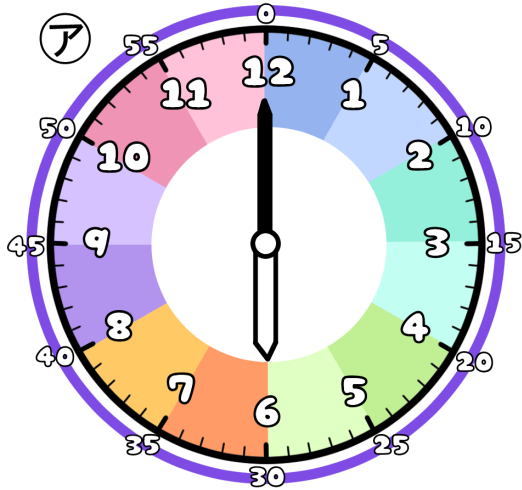


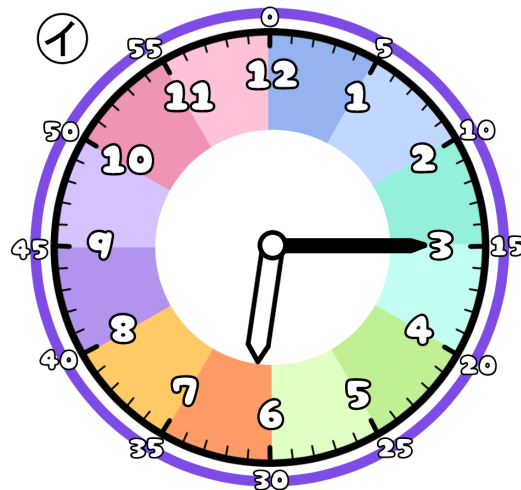
とけいのプリント

なまえ

① つぎの時こくは なんじ なんぶん 何時何分でしょう？



時 分

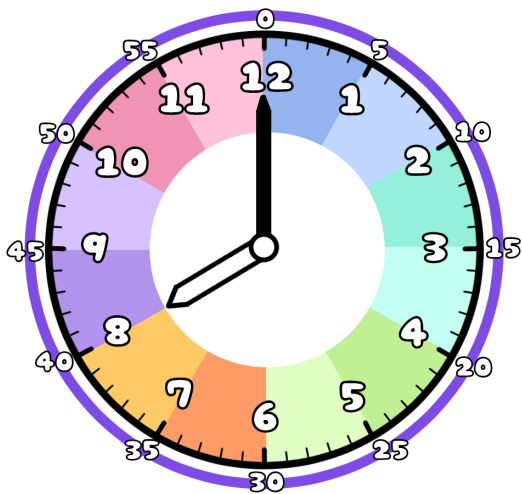


時 分

② ①から②の時こくに なるには？

分 の時間 が ひつよう です。

③ 今の時こくは、8時です。つぎの時こくを 答えましょう。



1時間前



1時間後



30分前



30分後

