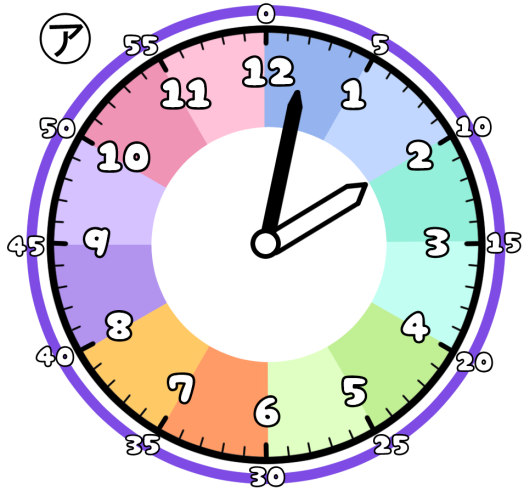


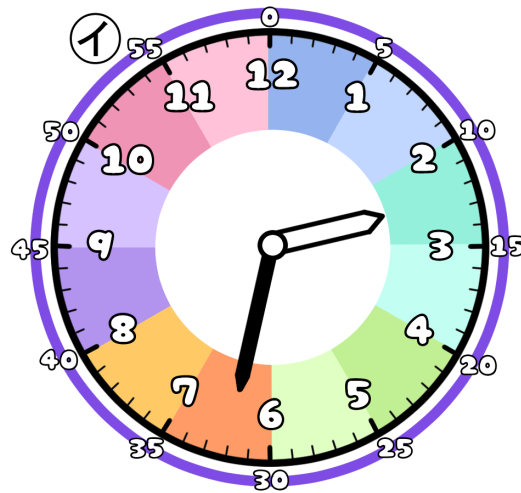
とけいのプリント

なまえ

① つぎの時こくは なんじ なんぶん 何時何分でしょう？



時 分

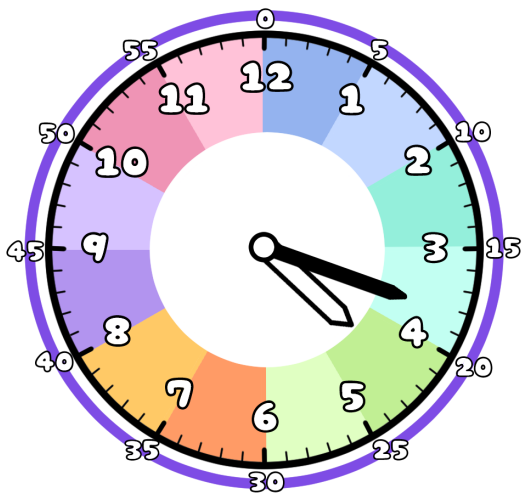


時 分

② アからイの時こくになるには？

分 の時間 が ひつよう です。

③ 今の時こくは、4時18分です。つぎの時こくを 答えましょう。



1時間前



1時間後



10分前



30分後

