

とけいのプリント

なまえ

① ^{しかく}□に ^あ当てはまる ^{じかん}時間を ^か書きましょう。

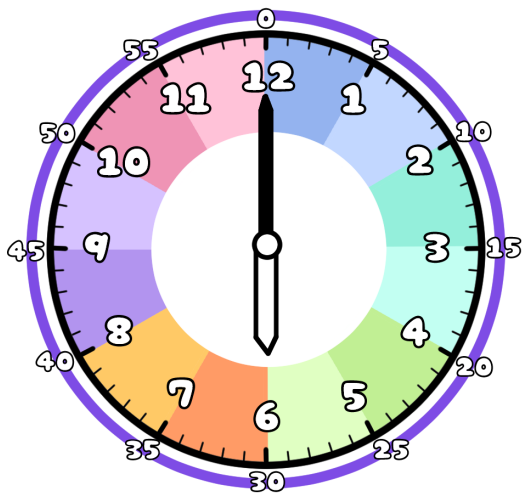


^{にち}1日は →

^{ごぜん}午前 →

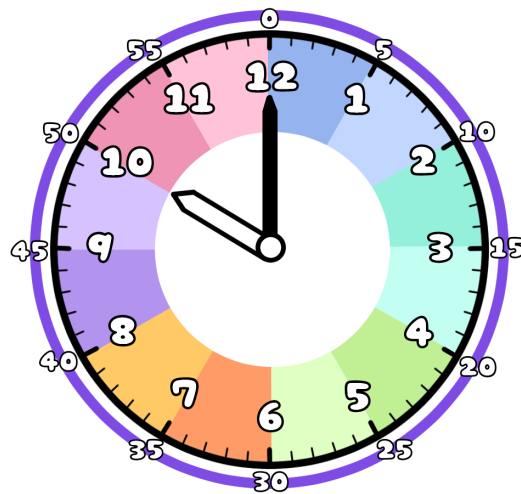
^{ごご}午後 →

② ^{ごぜん}午前 ^{ごぜん}か ^{まる}午後 ^{まる}か 丸をつけましょう。



^{あさ}朝の ^し7時に ^たごはんを ^た食べた

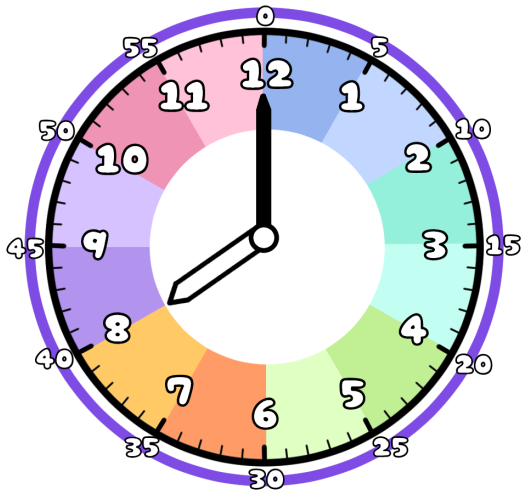
・



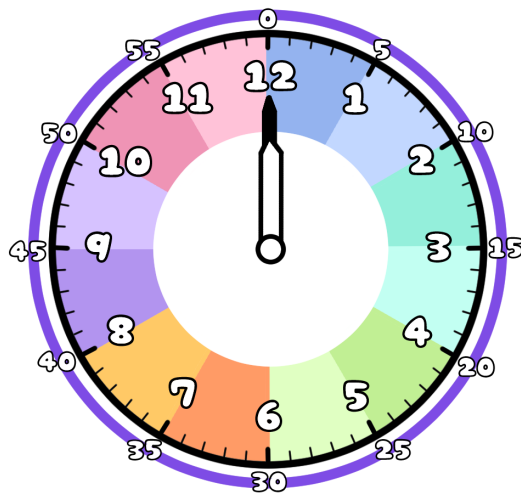
^{よる}夜の ^し8時に ^{はい}おふろに ^{はい}入った

・

③ トイレに ^{はい}入ってから ^で出るまでの ^{じかん}時間は ^{なんじかん}何時間かな？



^{はい}入った時間は ^{じかん}午前 ^{ごぜん}10時



^で出た時間は ^{じかん}午後 ^{ごご}12時