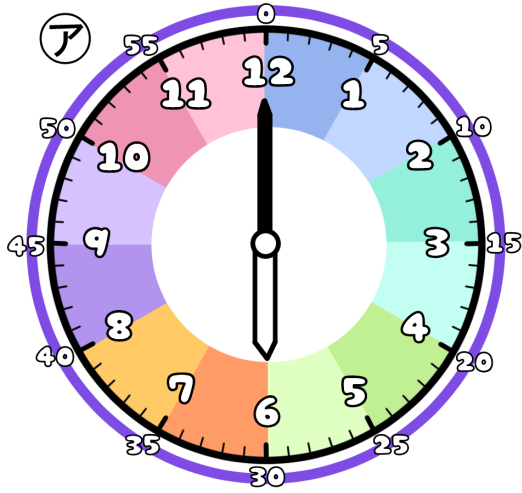


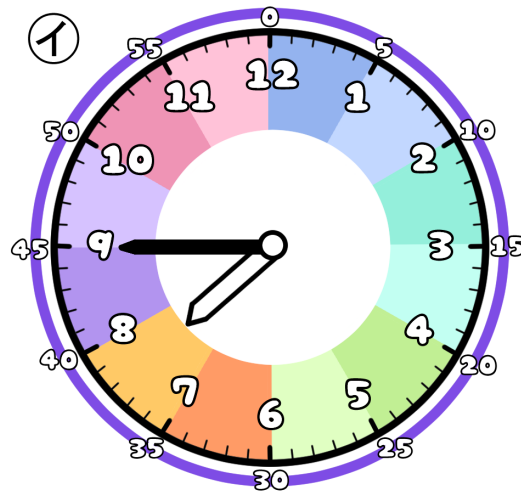
とけいのプリント

なまえ

① つぎの時こくは なんじ なんぶん 何時何分でしょう？



時 分




時 分

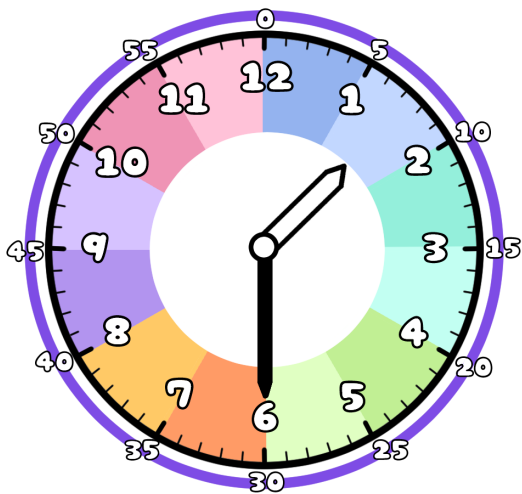
② ①から②の時こくになるには？

時間 分の時間 が ひとつ ですよ。 1時間は60分だよ

また 分の時間 が ひとつ ですよ。



③ 今の時こくは、1時30分です。つぎの時こくを こた 答えましょう。



1時間45分前

1時間45分後

45分前

45分後