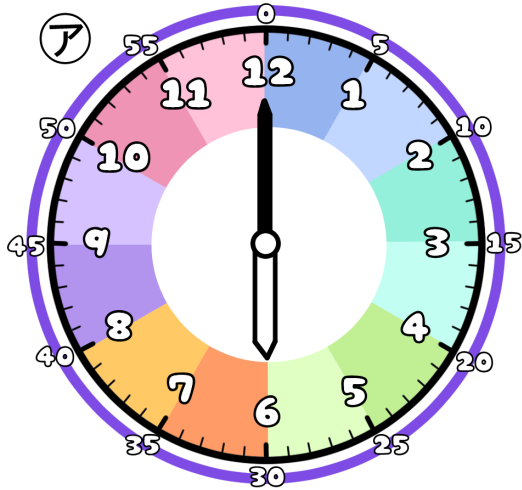


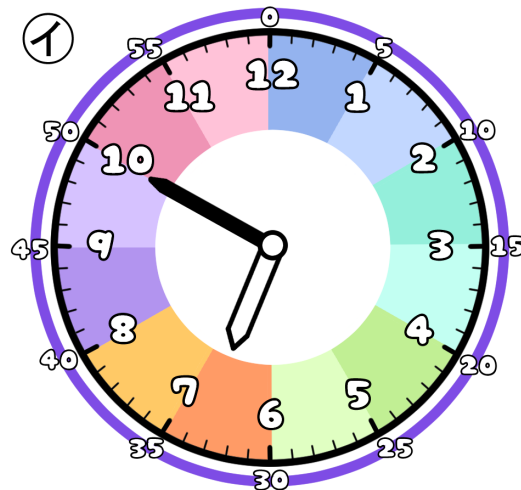
とけいのプリント

なまえ

① つぎの時こくは なんじ なんぶん 何時何分でしょう？



ア 時 分

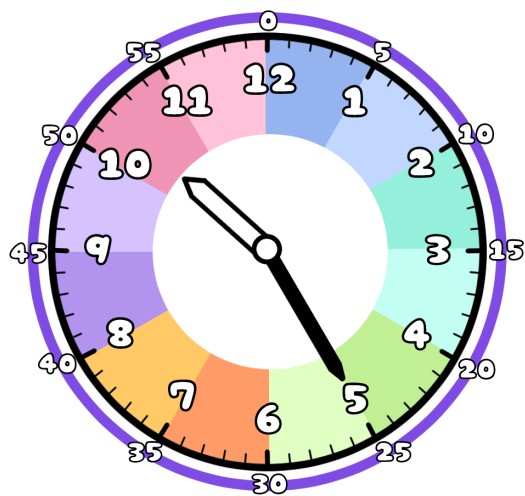


イ 時 分

② アからイの時こくに なるには？

分 じかん の時間 が ひつよう です。

③ 今の時こくは、10時25分です。つぎの時こくを こた 答えましょう。



じかん まえ
1時間前



じかん ご
1時間後



ぶん まえ
15分前



ぶん ご
15分後

