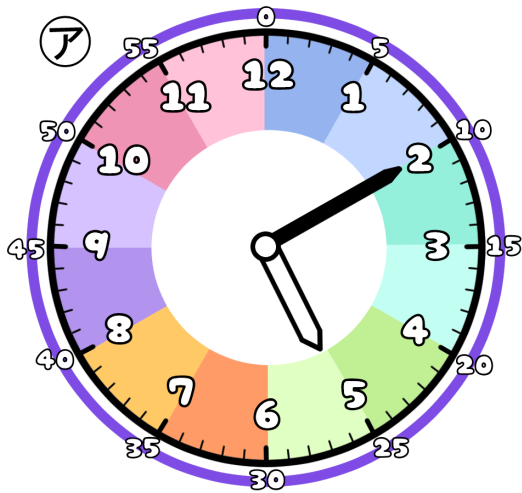


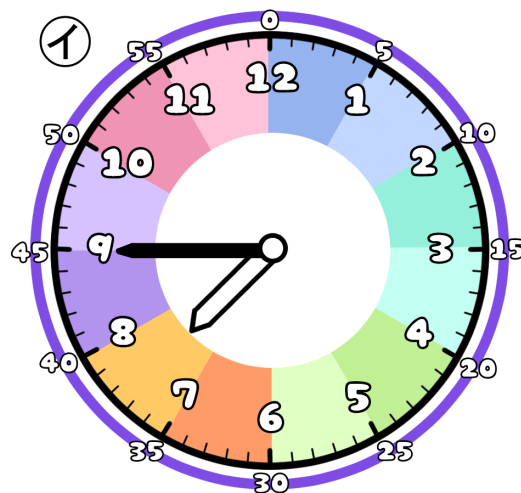
# とけいのプリント

# なまえ

① つぎの時こくは なんじ なんぶん 何時何分でしょう？



じ 時 ぶん 分




じ 時 ぶん 分

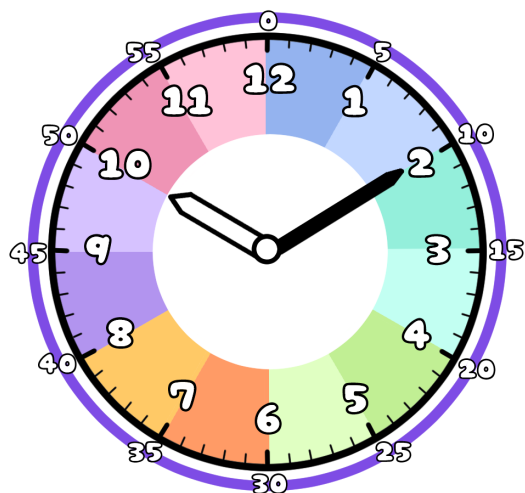
② アからイの時こくに なるには？

じかん 時間 ぶん 分 の じかん 時間が ひつよう です。 **1時間は60分だよ**

また ぶん 分 の じかん 時間が ひつよう です。



③ 今の時こくは、10時10分です。つぎの時こくを こた 答えましょう。



じかん 1時間 ぶん 10分 まえ 前



じかん 1時間 ぶん 30分 ご 後



ぶん 30分 まえ 前



ぶん 50分 ご 後

