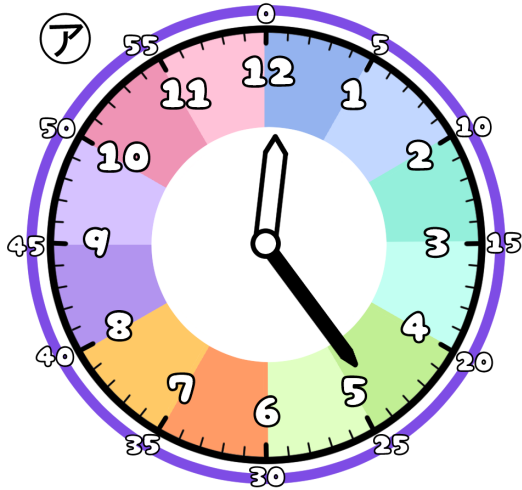


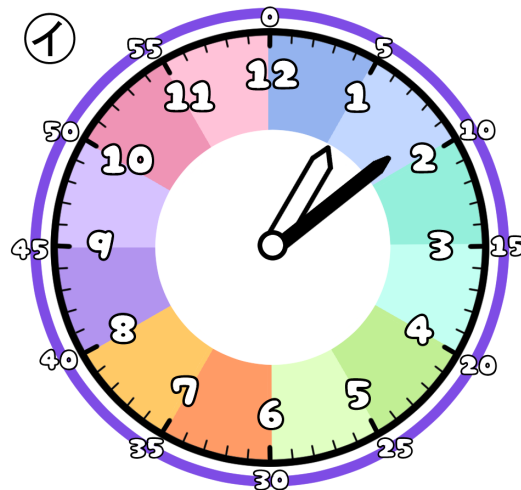
とけいのプリント

なまえ

① つぎの時こくは なんじ なんぶん 何時何分でしょう？



時 分




時 分

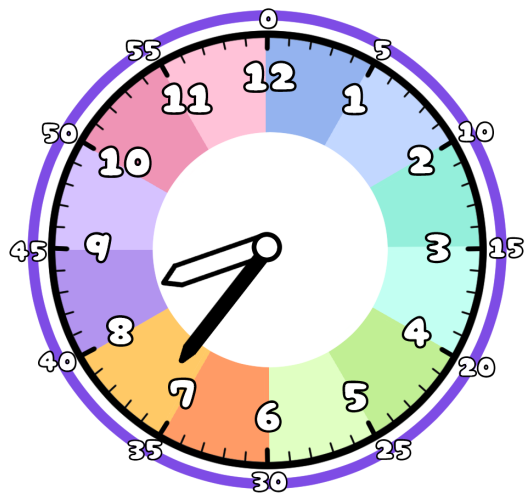
② アからイの時こくに なるには？

時間 分 の時間 が ひとつ ですよ。 1時間は60分だよ

また 分 の時間 が ひとつ ですよ。



③ 今の時こくは、8時36分です。つぎの時こくを 答えましょう。



1時間25分前



1時間40分後



31分前



44分後

