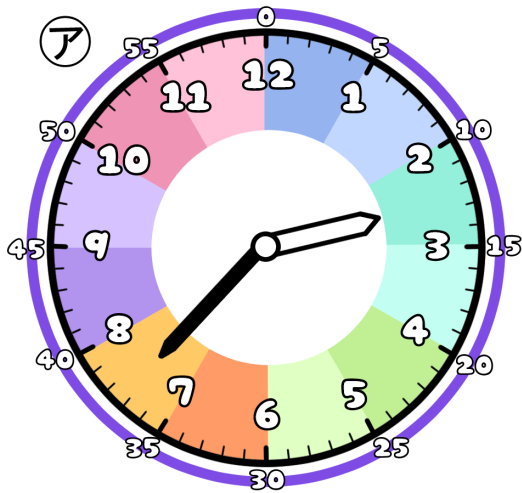


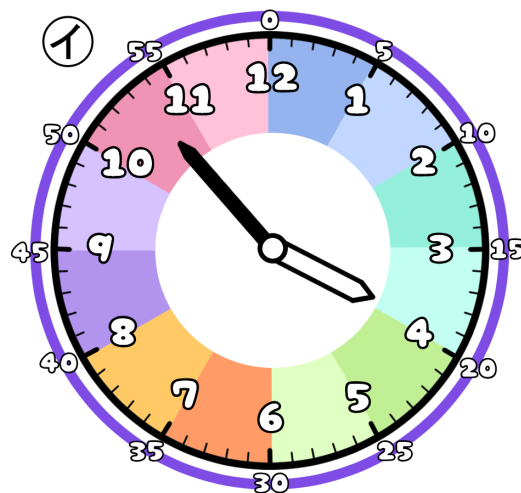
とけいのプリント

なまえ

① つぎの時こくは なんじ なんぶん 何時何分でしょう？



時 分




時 分

② アからイの時こくになるには？

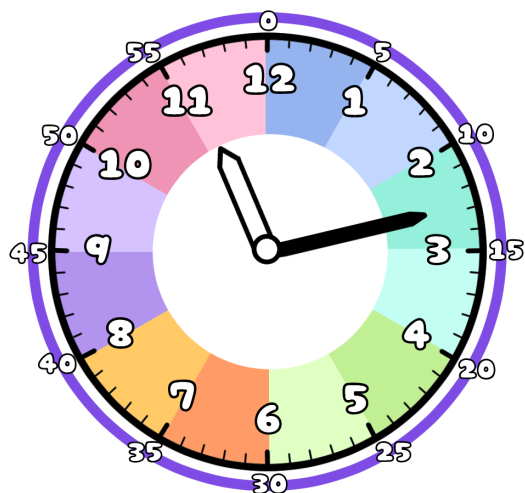
じかん 時間 ぶん 分の じかん 時間がひつようです。

1時間は60分だよ

また ぶん 分の時間がひつようです。



③ 今の時こくは、11時13分です。つぎの時こくを こた 答えましょう。



じかん 1時間 ぶん 10分 まえ 前



じかん 1時間 ぶん 22分 ご 後



ぶん 30分 まえ 前



ぶん 18分 ご 後

