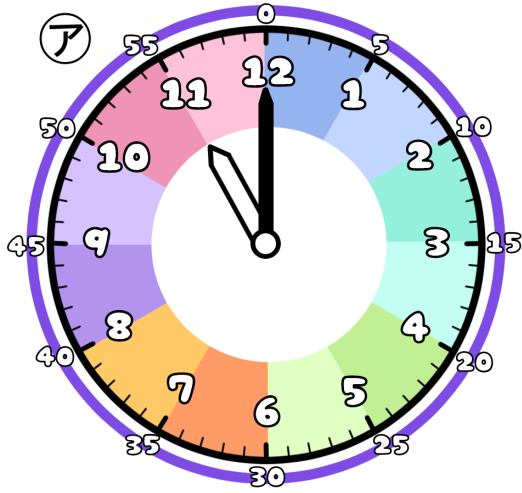


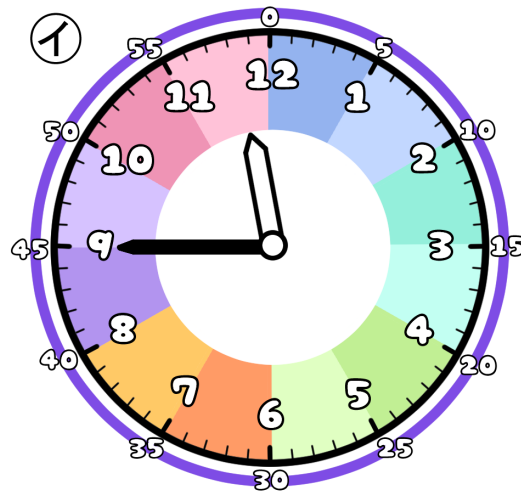
とけいのプリント

なまえ

① つぎの時こくは なんじ なんぶん 何時何分でしょう？



時 分

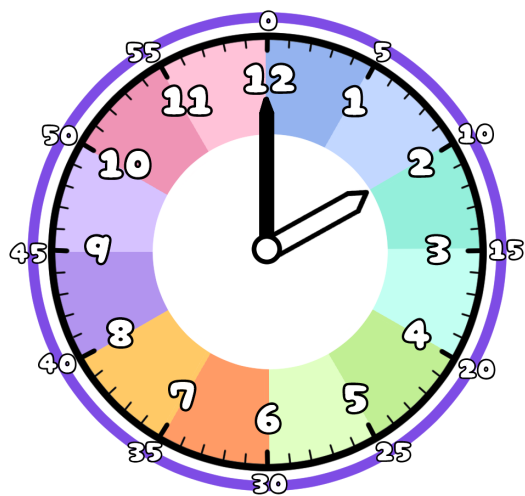


時 分

② ①から②の時こくに なるには？

分 じかん の時間 が ひつよう です。

③ 今の時こくは、2時です。つぎの時こくを こた 答えましょう。



じかん まえ
1時間前



じかん ごと
1時間後



ふん ごと
30分後



ふん ごと
20分後

