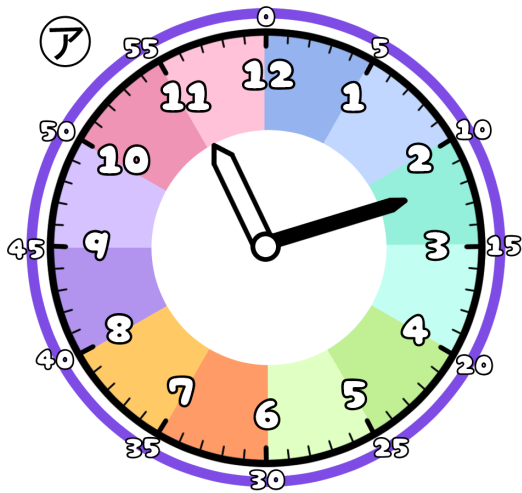


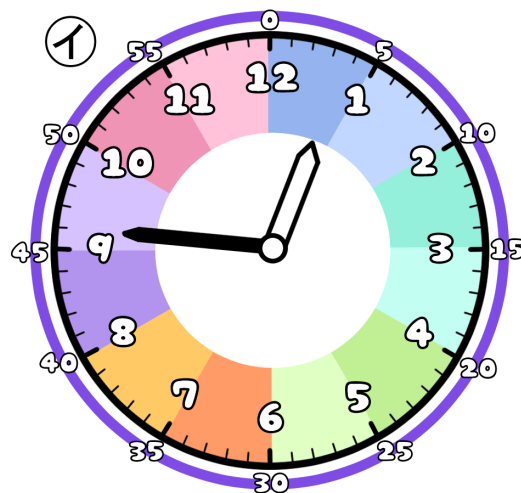
とけいのプリント

なまえ

① つぎの時こくは なんじ なんぶん 何時何分でしょう？



じ ぶん
時 分




じ ぶん
時 分

② アからイの時こくに なるには？

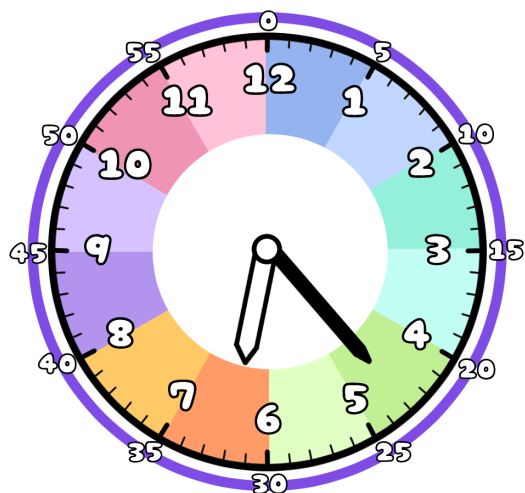
じかん 時間 ぶん 分の じかん 時間が ひつよう です。

1時間は60分だよ

また ぶん 分の じかん 時間が ひつよう です。



③ 今の時こくは、6時23分です。つぎの時こくを こた 答えましょう。



じかん まえ 1時間30分前



じかん ごと 1時間52分後



ぶん まえ 56分前



ぶん ごと 39分後

