


とけいのプリント

なまえ

① つぎの しかく □ に あ 当てはまる かず 数を か 書きましょう

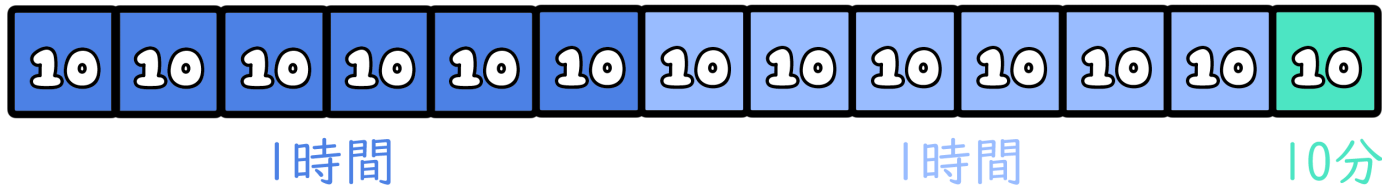
1時間は60分だよ



2時間10分



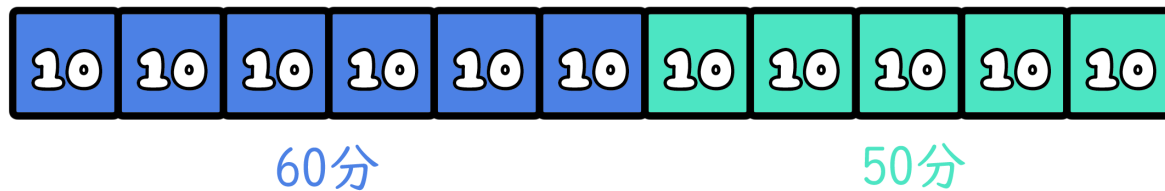
ぶん 分



110分



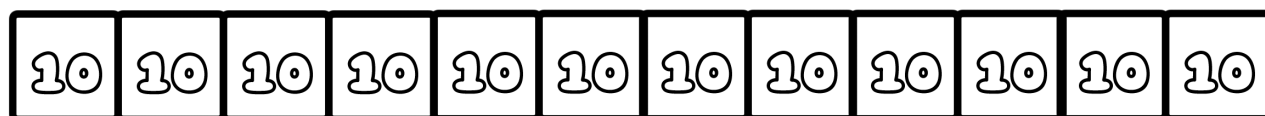
じかん 時間 ぶん 分



2時間0分



ぶん 分

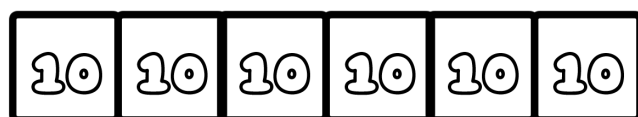


わからなかったら ぶん 60分 (じかん 1時間) の いろ 色をぬってみよう!

60分



じかん 時間 ぶん 分



わからなかったら ぶん 60分 (じかん 1時間) の いろ 色をぬってみよう!