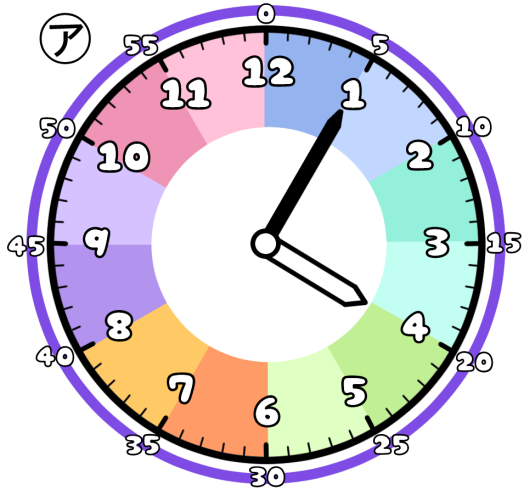


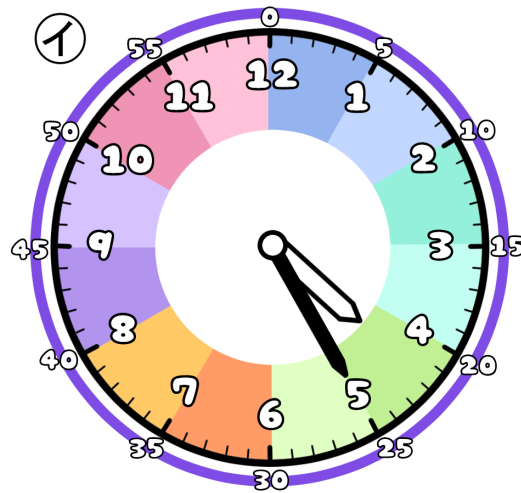
とけいのプリント

なまえ

① つぎの時こくは なんじ なんぶん 何時何分でしょう？



じ 時 ぶん 分

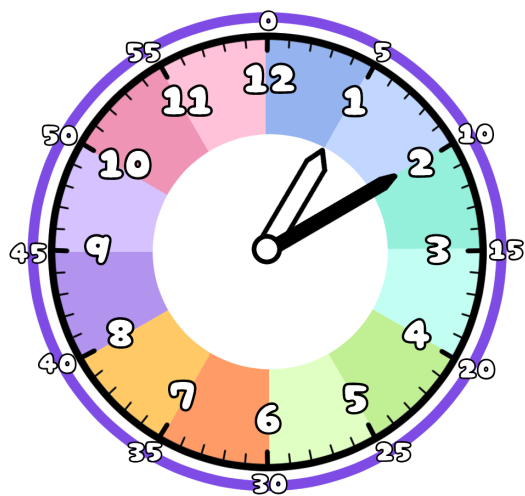


じ 時 ぶん 分

② アからイの時こくに なるには？

ぶん 分 じかん の時間 が ひつよう です。

③ 今の時こくは、1時10分です。つぎの時こくを こた 答えましょう。



じかん まえ
1時間前



じかん ご
1時間後



ぶん まえ
10分前



ぶん ご
10分後

