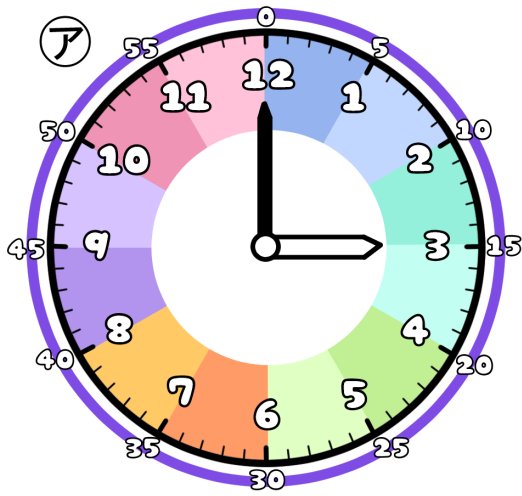


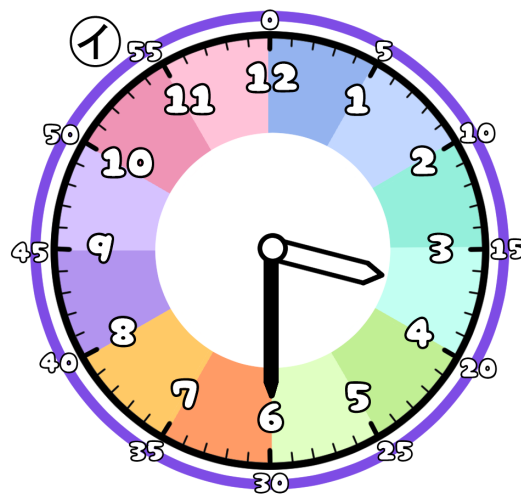
# とけいのプリント

# なまえ

① つぎの時こくは なんじ なんぶん 何時何分でしょう？



時  分

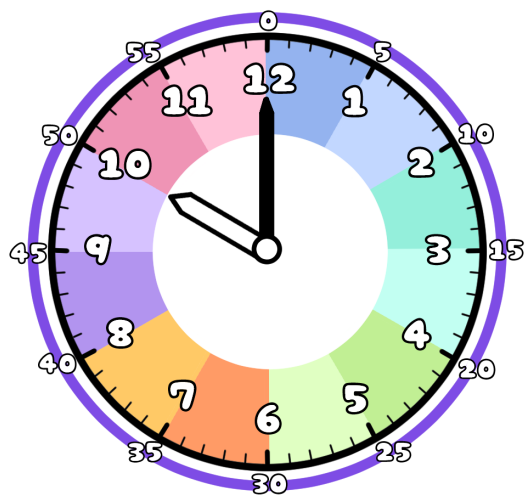


時  分

② アからイの時こくに なるには？

分 の時間 が ひつよう です。

③ 今の時こくは、10時です。つぎの時こくを 答えましょう。



1時間前



1時間後



30分前



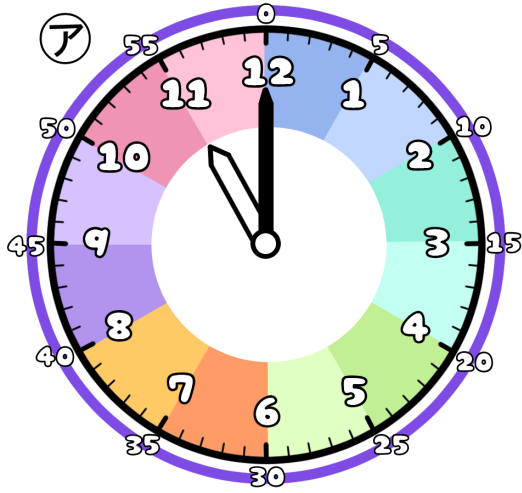
30分後



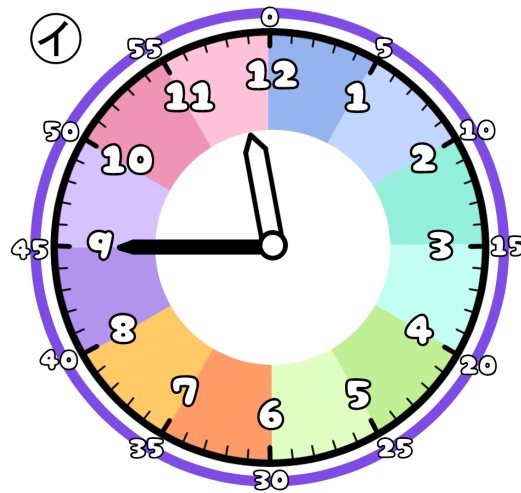
# とけいのプリント

# なまえ

① つぎの時こくは なんじ なんぶん 何時何分でしょう？



時  分

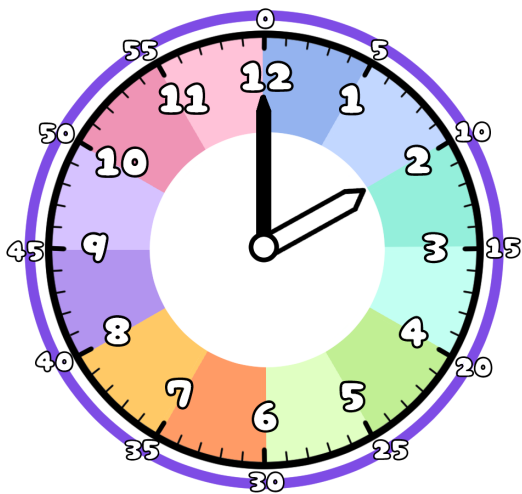


時  分

② ①から②の時こくに なるには？

分 の時間 が ひつよう です。

③ 今の時こくは、2時です。つぎの時こくを こた 答えましょう。



じかん まえ  
1時間前



じかん ごと  
1時間後



ふん まえ  
30分前



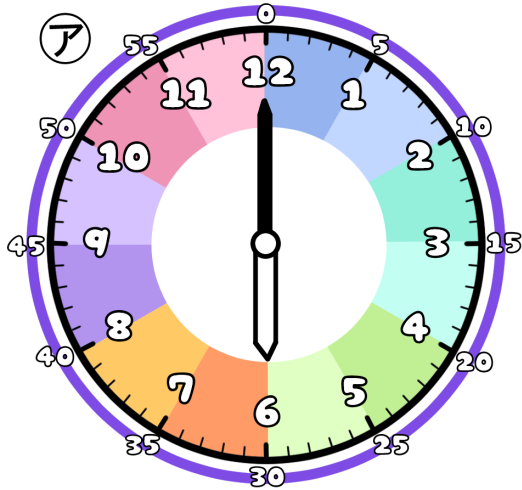
ふん ごと  
30分後



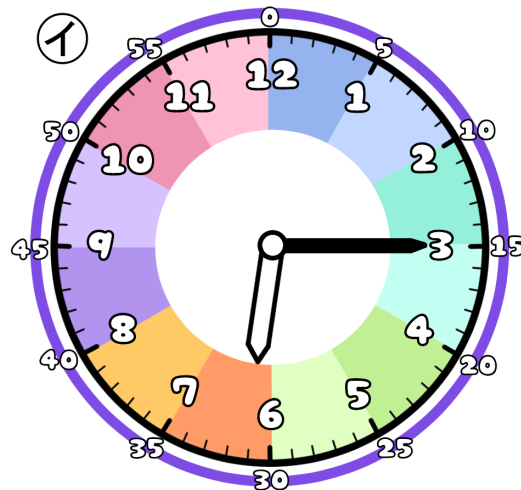
# とけいのプリント

# なまえ

① つぎの時こくは なんじ なんぶん 何時何分でしょう？



時  分

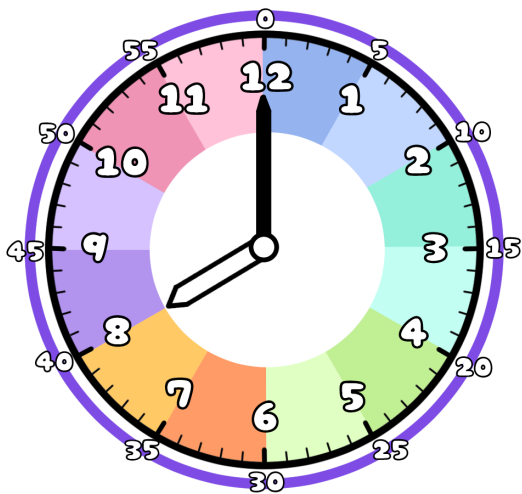


時  分

② ①から②の時こくに なるには？

分  の時間 が ひつよう です。

③ 今の時こくは、8時です。つぎの時こくを こた 答えましょう。



じかん まえ  
1時間前



じかん ごと  
1時間後



ぶん まえ  
30分前



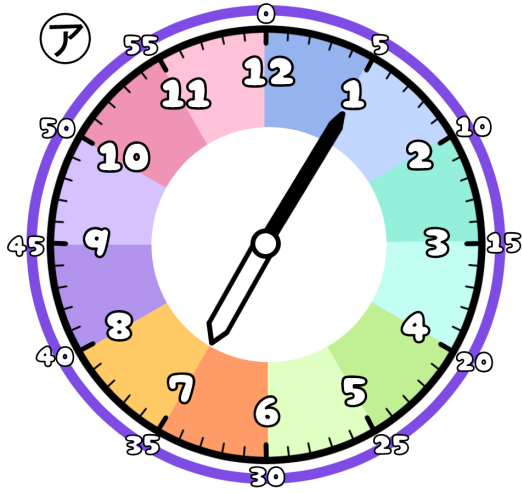
ぶん ごと  
30分後



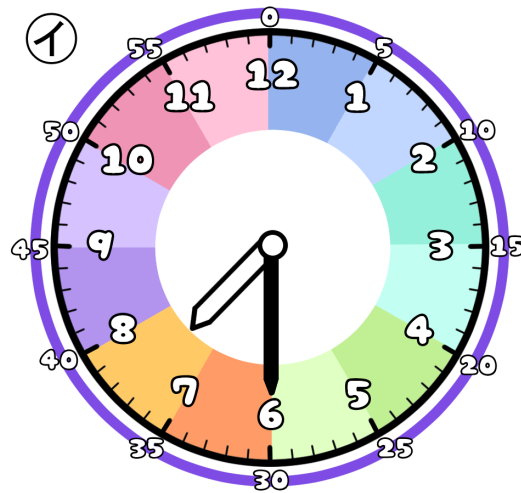
# とけいのプリント

# なまえ

① つぎの時こくは なんじ なんぶん 何時何分でしょう？



時 分

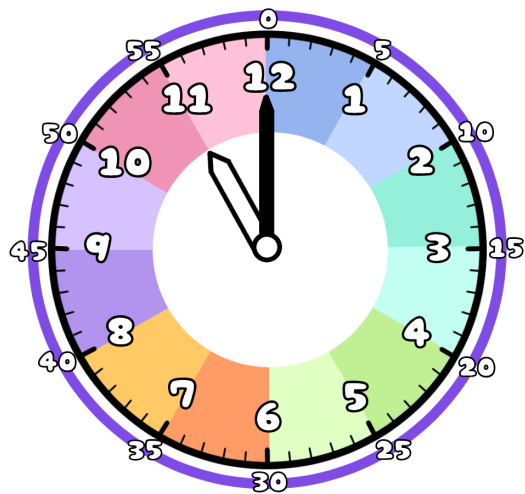


時 分

② アからイの時こくに なるには？

分 の時間 が ひつよう です。

③ 今の時こくは、11時です。つぎの時こくを 答えましょう。



1時間前



1時間後



20分前



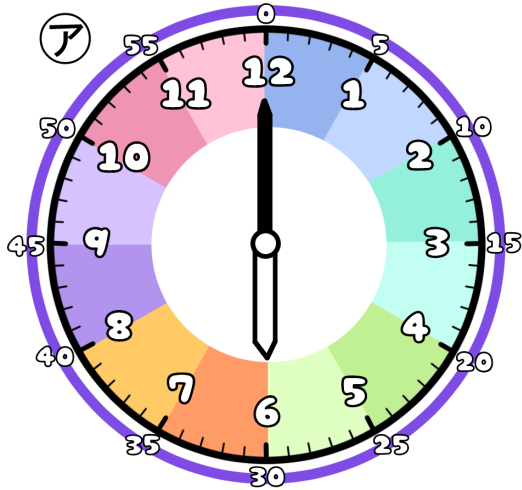
20分後



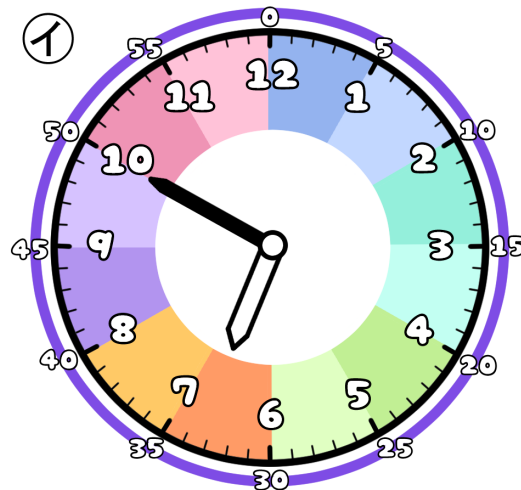
# とけいのプリント

# なまえ

① つぎの時こくは なんじ なんぶん 何時何分でしょう？



ア じ 時 ぶん 分

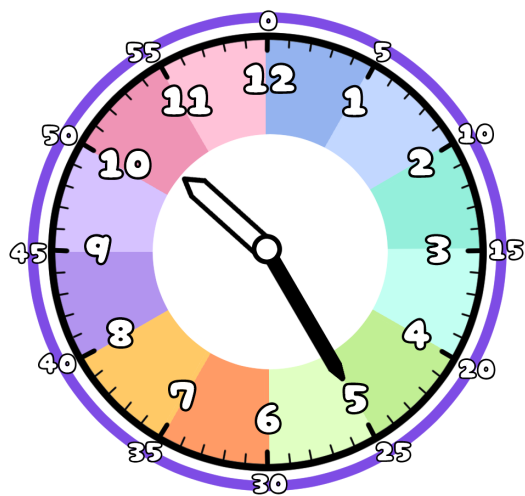


イ じ 時 ぶん 分

② アからイの時こくに なるには？

ぶん 分 じかん の時間 が ひつよう です。

③ 今の時こくは、10時25分です。つぎの時こくを こた 答えましょう。



じかん まえ  
1時間前



じかん ご  
1時間後



ぶん まえ  
15分前



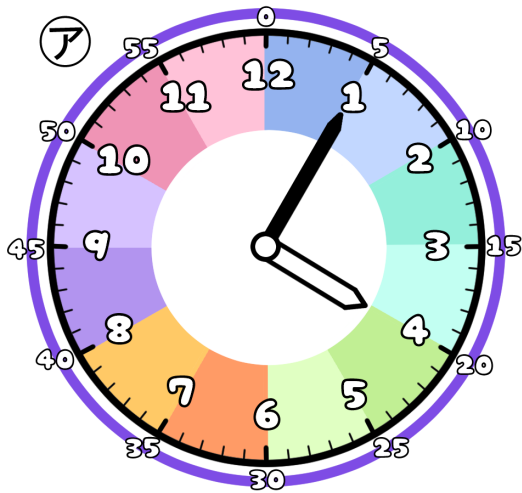
ぶん ご  
15分後



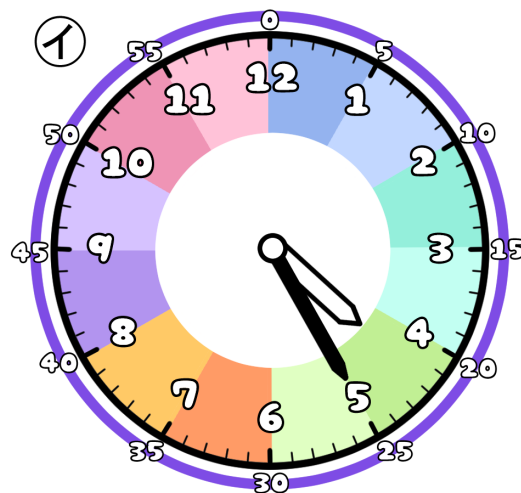
# とけいのプリント

# なまえ

① つぎの時こくは なんじ なんぶん 何時何分でしょう？



じ 時 ぶん 分

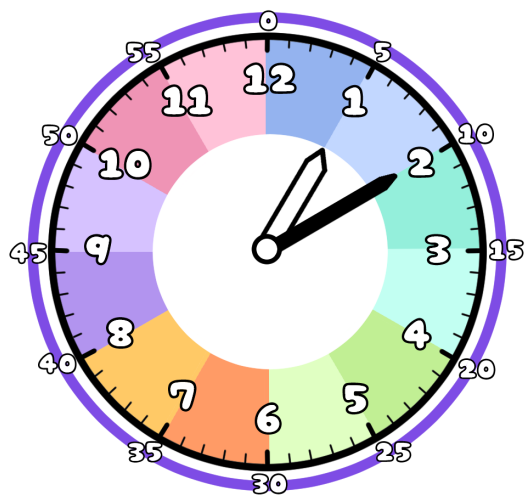


じ 時 ぶん 分

② アからイの時こくに なるには？

ぶん 分 じかん の時間 が ひつよう です。

③ 今の時こくは、1時10分です。つぎの時こくを こた 答えましょう。



じかん まえ 1時間前



じかん ご 1時間後



ぶん まえ 10分前



ぶん ご 10分後

