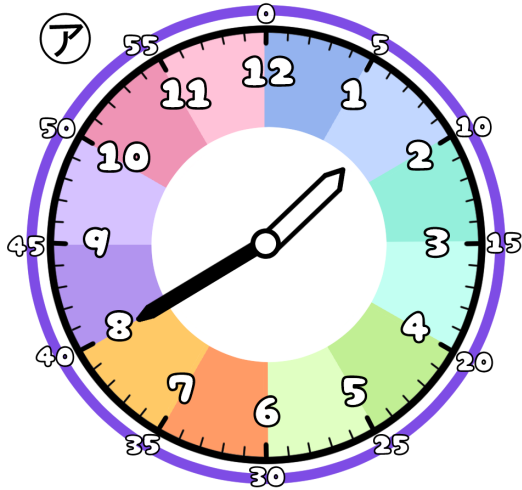


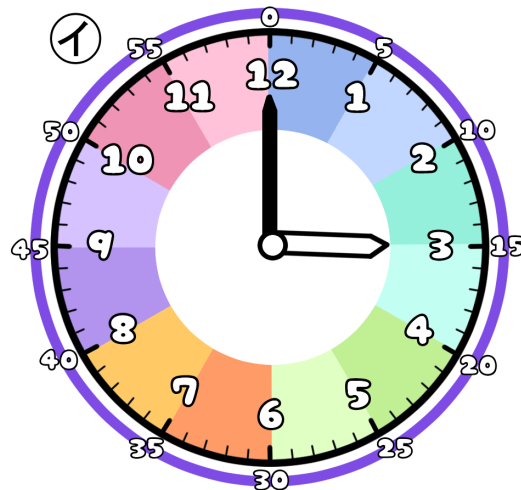
とけいのプリント

なまえ

① つぎの時こくは なんじ なんぶん 何時何分でしょう？



時 分




時 分

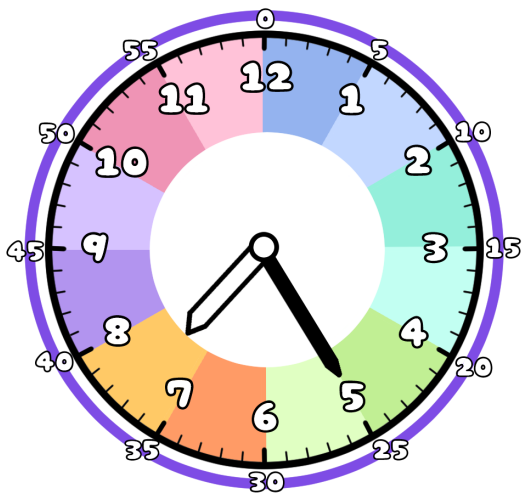
② アからイの時こくになるには？

時間 分の時間がひつようです。 1時間は60分だよ

また 分の時間がひつようです。



③ 今の時こくは、7時25分です。つぎの時こくを こた 答えましょう。



1時間25分前 →

1時間30分後 →

35分前 →

35分後 →