


とけいのプリント

なまえ

① つぎの ^{しかく}□に ^あ当てはまる ^{かず}数を ^か書きましょう

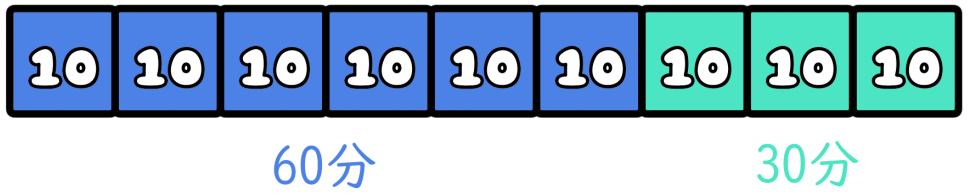
1時間は60分だよ



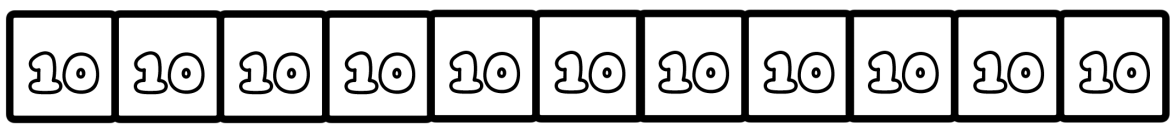
1時間10分 → 分



90分 → 時間 分

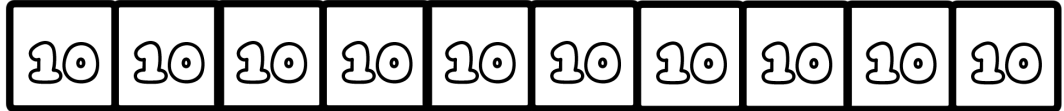


1時間50分 → 分



わからなかったら 60分(1時間)の色をぬってみよう!

100分 → 時間 分



わからなかったら 60分(1時間)の色をぬってみよう!