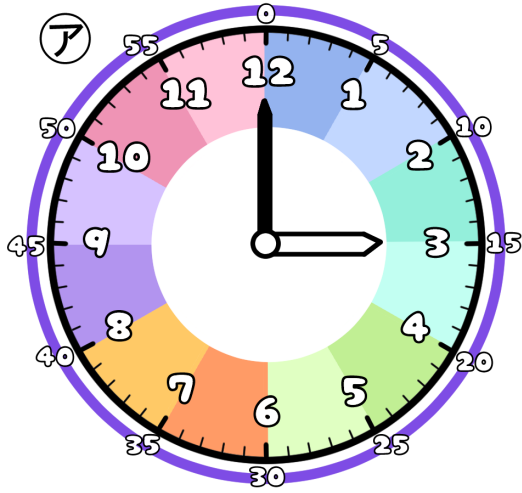


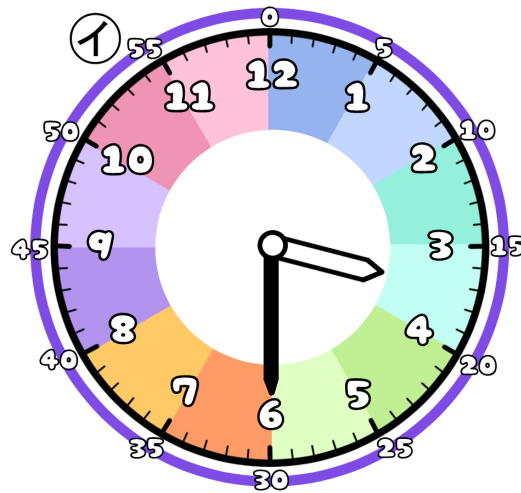
とけいのプリント

なまえ

① つぎの時こくは なんじ なんぶん 何時何分でしょう？



時 分

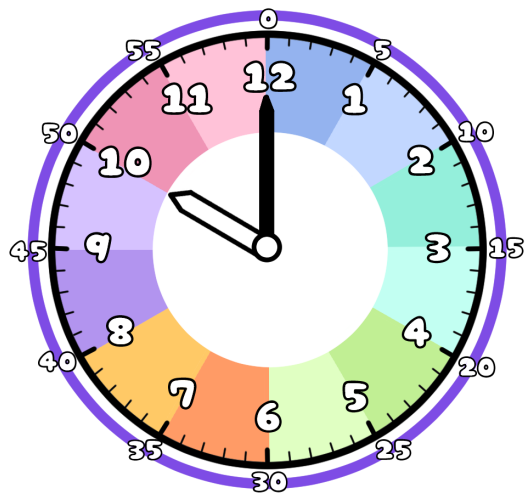


時 分

② アからイの時こくになるには？

分 じかん の時間 が ひつよう です。

③ 今の時こくは、10時です。つぎの時こくを こた 答えましょう。



じかん まえ
1時間前



じかん ち
1時間後



ぶん ち
30分後



ぶん ち
10分後

