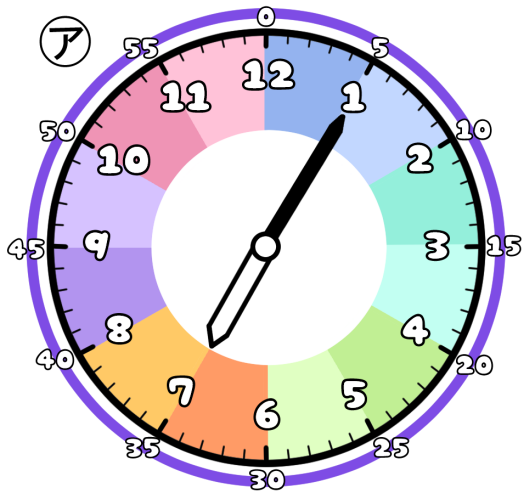


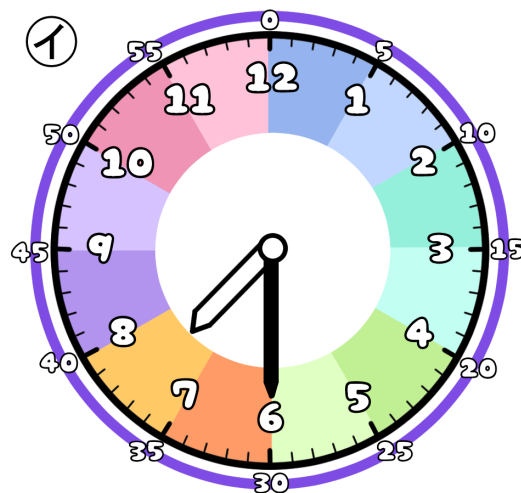
とけいのプリント

なまえ

① つぎの時こくは なんじ なんぶん 何時何分でしょう？



じ 時 ぶん 分

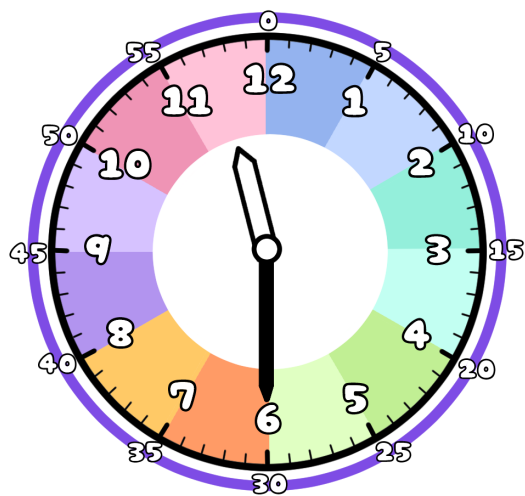


じ 時 ぶん 分

② ①から②の時こくになるには？

ぶん 分 じかん の時間がひつようです。

③ 今の時こくは、11時30分です。つぎの時こくを 答えましょう。



じかん まえ 1時間前



じかん ご 1時間後



ぶん まえ 30分前



ぶん ご 30分後

