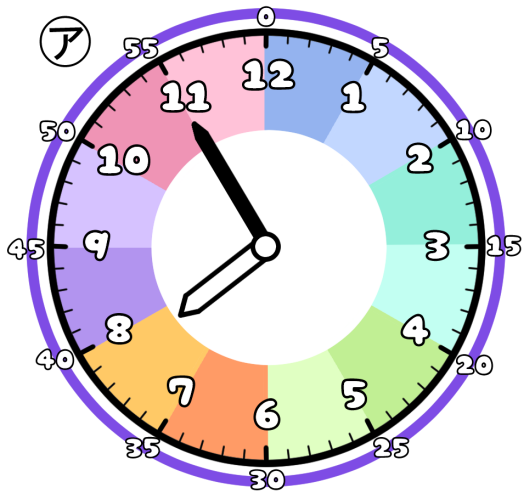


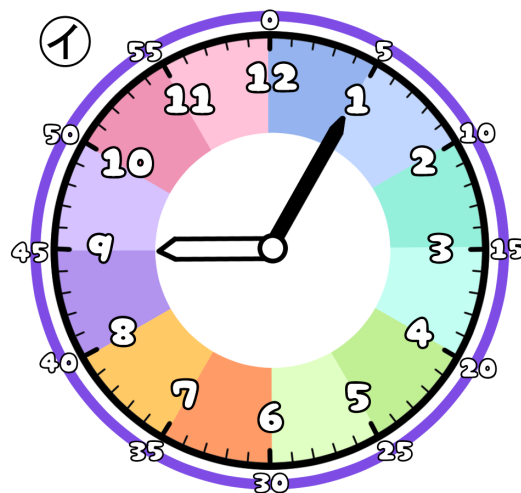
とけいのプリント

なまえ

① つぎの時こくは なんじ なんぶん 何時何分でしょう？



じ 時 ぶん 分




じ 時 ぶん 分

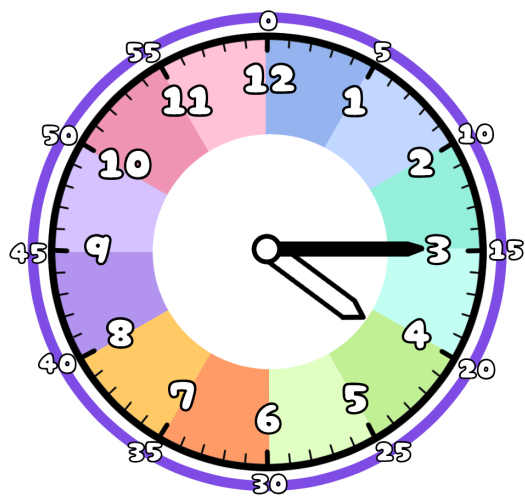
② アからイの時こくになるには？

じかん 時間 ぶん 分 の時間 が ひつよう です。 1時間 は 60分 だよ

また ぶん 分 の時間 が ひつよう です。



③ 今の時こくは、4時15分です。つぎの時こくを こた 答えましょう。



じかん 1時間 ぶん 15分 まえ 前



じかん 1時間 ぶん 45分 ご 後



ぶん 30分 まえ 前



ぶん 50分 ご 後

