




かずのプリント

なまえ

1 え み かず か 絵を見て 数を書きましょう。

まえ

うしろ



00037-

リス

ニワトリ

ウサギ

ハリネズミ

①リスは まえ なんばんめ 前から何番目？

こたえ

②ハムスターは まえ なんばんめ 前から何番目？

こたえ

③ウサギは まえ なんばんめ 前から何番目？

こたえ




かずのプリント

なまえ

1 え み かず か 絵を見て 数を書きましょう。

まえ

うしろ



00037-

リス

ニワトリ

ウサギ

ハリネズミ

①ニワトリは うしろ 後ろから なんばんめ 何番目？

こたえ

②リスは うしろ 後ろから なんばんめ 何番目？

こたえ

③ハリネズミは うしろ 後ろから なんばんめ 何番目？

こたえ


かずのプリント

なまえ

1 え み かず か 絵を見て 数を書きましょう。

ひだり

みぎ



① ひだり なんばんめ ウサギ は 左から何番目？

こたえ

② ひだり なんばんめ リス は 左から何番目？

こたえ

③ ひだり なんばんめ オヤジ は 左から何番目？

こたえ

かずのプリント


なまえ

1 え み かず か 絵を見て 数を書きましょう。


ひだり



00037-




リス



3711



ウサギ



001333

みぎ

①リスは みぎ なんばんめ 右から何番目？

こたえ

②ハムスターは みぎ なんばんめ 右から何番目？

こたえ

③ウサギは みぎ なんばんめ 右から何番目？

こたえ


かずのプリント

なまえ

1 え み かず か 絵を見て 数を書きましょう。

まえ

うしろ



①リスは まえ なんばんめ 前から何番目？

こたえ

②ウサギは うしろ なんばんめ 後ろから何番目？

こたえ

③ハムスターは うしろ なんばんめ 後ろから何番目？

こたえ

かずのプリント

なまえ

1 ^え ^み ^{かず} ^か 絵を見て 数を書きましょう。

ひだり


みぎ




ハムスター



ウサギ



リス



ニワトリ



オヤジ

① オヤジ は ^{ひだり} ^{なんばんめ} 左から何番目？

こたえ

② ハムスター は ^{みぎ} ^{なんばんめ} 右から何番目？

こたえ

③ ニワトリ は ^{ひだり} ^{なんばんめ} 左から何番目？

こたえ