


1 りんごが 1皿に 7こずつあります。

9皿分だと りんごは 全部で何こでしょう。



しき

こたえ

2 アメを 2こずつ 配ります。

4人に 配るには アメは いくつ必要でしょう。




しき

こたえ

3 どんぐりが 4こずつ お皿に あります。

6皿分だと どんぐりは 全部で何こでしょう。




しき

こたえ

4 車に3人乗っています。

車が8台だと何人乗ってるでしょう。



しき

こたえ