

1 6は いくつと いくつでしょう。



3 と



5 と











1 と



2 と

2 10になるように ^{せん}線で ^{むす}結びましょう。



3 あと いくつでしょう？

9

7

10

4

5

3

7

2