



1 ^{くふう} ^{けいさん}工夫した計算を ^{かず} ^かしてみました。さくらんぼにも ^{かず} ^か数を書きましょう。


① $4 + 7 = \square$




② $12 - 8 = \square$




③ $6 + 7 = \square$




④ $16 - 9 = \square$



⑤ $5 + 6 = \square$



⑥ $15 - 7 = \square$



2 さくらんぼを ^す好きに ^か書いて ^{けいさん}計算してみましょう。

① $6 + 5 =$

② $7 + 9 =$

③ $12 - 3 =$

④ $15 - 7 =$