



1 ^{くふう} ^{けいさん}工夫した計算を ^{かず} ^かしてみました。さくらんぼにも ^{かず} ^か数を書きましょう。


① $7 + 6 = \square$




② $17 - 8 = \square$




③ $6 + 6 = \square$



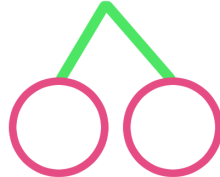
④ $15 - 6 = \square$



⑤ $9 + 2 = \square$



⑥ $12 - 4 = \square$



2 さくらんぼを ^す好きに ^か書いて ^{けいさん}計算してみましょう。

① $9 + 5 =$

② $3 + 8 =$

③ $15 - 8 =$

④ $13 - 6 =$