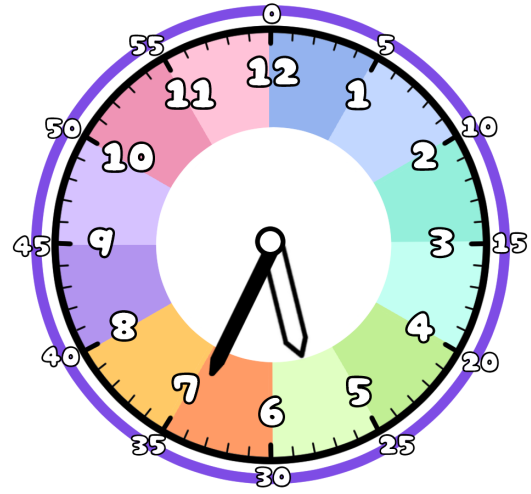
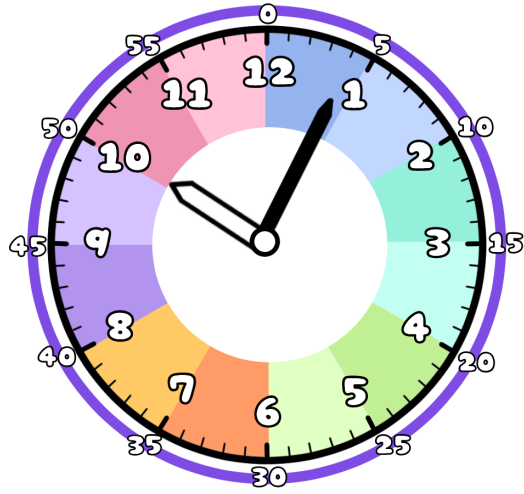


1 ただ 正しい じこく 時刻を せん 線で むす 結びましょう

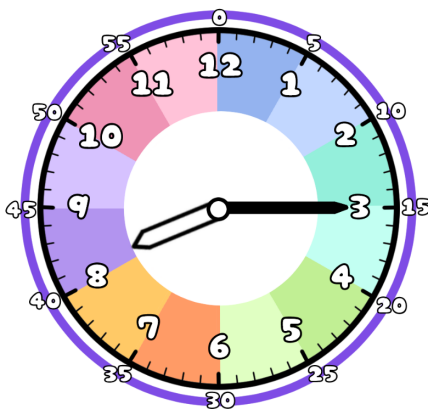


5時 34分

10時 4分

5時 35分

2 とけい 時計を み 見て なんじ なんぶん 何時何分か か 書きましょう



時 分

時 分

時 分

