



1 ^{くふう} ^{けいさん}工夫した計算を ^{かず} ^かしてみました。さくらんぼにも ^{かず} ^か数を書きましょう。


① $5 + 9 =$




② $13 - 6 =$




③ $4 + 8 =$




④ $6 + 7 =$



⑤ $11 - 2 =$



⑥ $17 - 8 =$



2 さくらんぼを ^す好きに ^か書いて ^{けいさん}計算してみましょう。

① $14 - 5 =$

② $12 - 9 =$

③ $8 + 6 =$

④ $9 + 4 =$