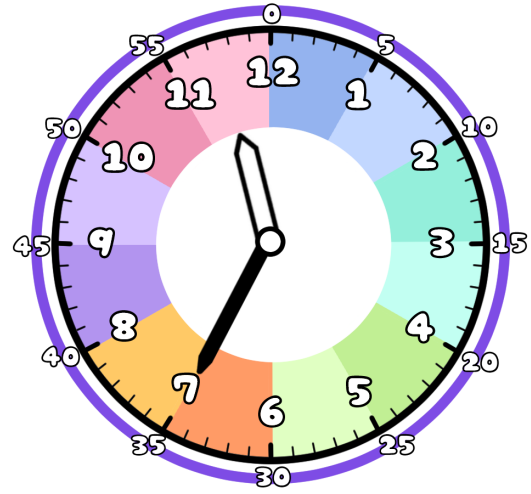
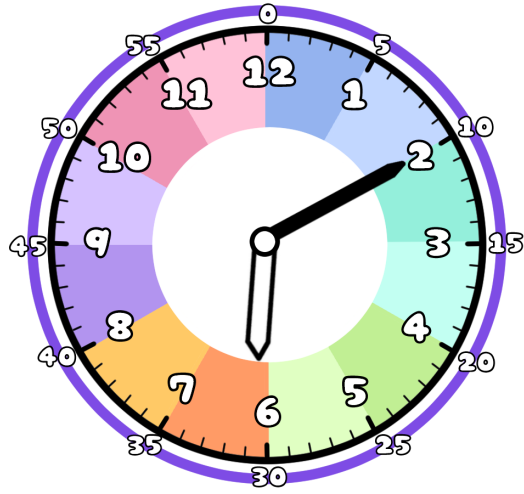


1 ただ 正しい じこく 時刻を せん 線で むす 結びましょう

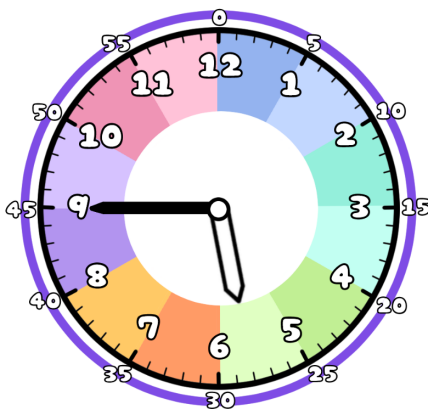


9時 10分

11時 35分

6時 10分

2 とけい 時計を み 見て なんじ 何時 なんぶん 何分 か か書きましょう



時 分

時 分

時 分

